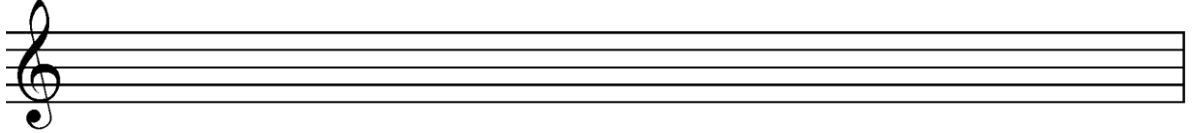



VRAAG 1

- 1.1 Skryf die toonleer van A \flat -majeur sonder 'n toonsoortteken. Skryf die toonleer deur agstenote in saamgestelde vierslagmaat te gebruik en voltooi die maat met rustekens.




(2)

- 1.2 Skryf die toonleer van G \sharp melodiese mineur met 'n toonsoortteken, stygend en dalend. Skryf die toonleer deur kwartnote te gebruik.



(2)

- 1.3 Voeg 'n sleutel en skuiftekens in om die toonleer van B \flat harmoniese mineur te skep.




(2)

- 1.4 Identifiseer die blues-toonleer hieronder wat korrek geskryf is.


(1)

- 1.5 Skryf die heeltoon-toonleer wat op G \flat begin sonder 'n toonsoortteken, stygend.




(1)

1.6 Omkring twee verkeerde note in die E majeur pentatoniese toonleer wat hieronder geskryf is. Herskryf dan die toonleer korrek.



(2)

1.7 Skryf die Frigiese modus op F# sonder 'n toonsoortteken. Skryf die modus deur een maat in 'n onreëlmatige tydmaatteken te gebruik.



(3)

1.8 Die volgende kadens kan beskryf word as:

	'n Plagale kadens in D majeur	
	'n Onderbroke kadens in C# mineur	
	'n Onvolmaakte kadens in G# mineur	

(1)

1.9 Beskryf die notasie hieronder deur die tabel wat volg te voltooi.

Majeurtoonsoort:	Tegniese naam van noot:
Mineurtoonsoort:	Tegniese naam van noot:

(2)
[16]

VRAAG 2

Verwys na **BYLAAG A** in die Hulpbronboekie. Bylaag A bevat uittreksels uit 'n Tema en Variasies deur W.A. Mozart.

2.1 Identifiseer die vorm van die tema (maat 1–24).

_____ (1)

2.2 Beskryf 'n ritmiese verskil tussen die tema en elkeen van die variasies wat volg.

Variasie 3: _____
 _____ (1)

Variasie 8: _____
 _____ (1)

Variasie 13: _____
 _____ (1)

2.3 Gebruik die gegewe elemente om nog een verskil tussen die tema en elkeen van die volgende variasies te toon:

Variasie 3 – melodie: _____
 _____ (1)

Variasie 8 – tonaliteit: _____
 _____ (1)

Variasie 13 – tempo: _____
 _____ (1)

VRAAG 3

3.1 Besyfer op die uittreksel hieronder die akkoorde gemerk "D", "E" en "F". Noem die toonsoort.

(4)

3.2 Identifiseer die kadens gemerk "G".

_____ (1)

3.3 Harmoniseer die gegewe progressie in vierstemmige harmonie. Noem die toonsoort.

Ib IV iib V7 I

(6)

3.4 Harmoniseer die gegewe sopraan in vierstemmige harmonie om 'n deurgangsprogressie te skep. Noem die toonsoort en besyfer die akkoorde wat jy skryf.

(4)
[15]

Totaal: 50 punte

BYKOMENDE SPASIE (ALLE VRAE)

ONTHOU OM DUIDELIK BY DIE VRAAG AAN TE DUI DAT JY DIE BYKOMENDE SPASIE GEBRUIK HET OM TE VERSEKER ALLE ANTWOORDE WORD NAGESIEN.

